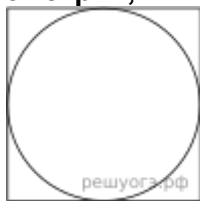
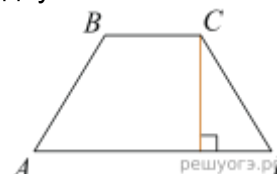


Выполнить онлайн: <https://math-oge.sdamgia.ru/test?id=74673466>

Геометрия, 11.12



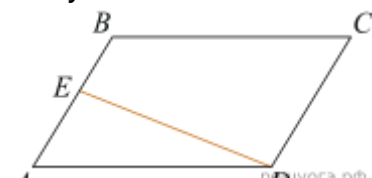
1. Найдите площадь квадрата, описанного около окружности радиуса 19.



2. Высота равнобедренной трапеции, проведенная из вершины C , отсекает от основания AD отрезок длиной 2. Длина основания BC равна 7. Найдите длину основания AD .

3. Найдите площадь прямоугольника, если его периметр равен 60, а отношение соседних сторон равно 4:11.

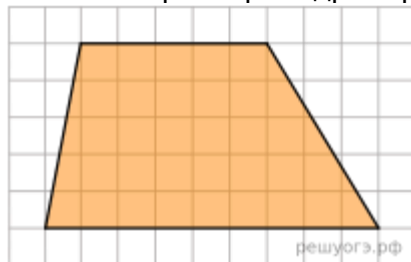
4. В прямоугольнике диагональ равна 10, а угол между ней и одной из сторон равен 60° , длина этой стороны равна 5. Найдите площадь прямоугольника, деленную на $\sqrt{3}$.



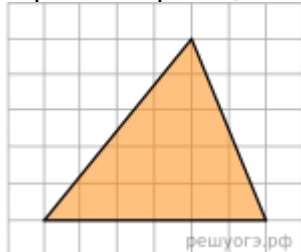
5. Площадь параллелограмма $ABCD$ равна 136. Точка E — середина стороны AB . Найдите площадь трапеции $EBCD$.



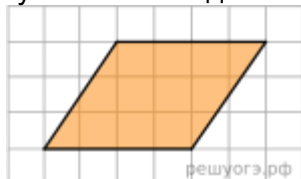
6. Периметр квадрата равен 56. Найдите площадь квадрата.



7. На клетчатой бумаге с размером клетки 1×1 изображена трапеция. Найдите ее площадь.



8. На клетчатой бумаге с размером клетки 1×1 изображен треугольник. Найдите его площадь.



9. На клетчатой бумаге с размером клетки 1×1 изображен параллелограмм. Найдите его площадь.

11.12.25

	<div data-bbox="427 58 651 383"> </div> <p>10. На клетчатой бумаге с размером клетки 1х1 изображена фигура. Найдите ее площадь.</p> <div data-bbox="427 427 727 719"> </div> <p>11. Площадь одной клетки равна 1. Найдите площадь фигуры, изображенной на рисунке.</p> <div data-bbox="427 752 874 909"> </div> <p>12. На клетчатой бумаге с размером клетки 1 × 1 изображен ромб. Найдите площадь этого ромба.</p>
--	---

Общество Патрахина И.Н.

11.12.25	<p>По п.11 письменно ответы на вопросы</p> <ol style="list-style-type: none"> 1. Что такое религия? 2. Какие современные религии имеют наибольшее число верующих? 3. Что характерно для религии (3 характеристики) <p>П.12 письменно ответы на вопросы</p> <ol style="list-style-type: none"> 1. Что называется соц сферой? 2. Какие виды деятельности входят в социальную сферу? 3. В чем причины неравенства? 4. По каким признакам(критериям) выделяют в обществе различные страты?
----------	---

Русский язык Борисова И.А.

11.12.25	<p>§27-выучить теоретическую часть Выполнить задания упражнения</p> <p>Спишите предложения, подчеркните грамматические основы, укажите вид односоставных предложений.</p> <ol style="list-style-type: none"> 1. Во глубине сибирских руд храните гордое т...рпенье. 2. В полях бл...стает май весёлый. 3. Жутко идти ночью одному с фонарём. 4. Без труда не вытащиш... и рыбки из пруда. 5. Выйдеш..., бывало, за околицу и (не)вольно залюбуеш...ся открывающимися просторами. 6. Везде следы пожара. 7. Выткался над озером алый свет зари. 8. Взгрустнулось как(то) мне в степи однообразной. 9. (Не)хочет...ся забывать вчерашний дивный день. 10. Выб...рите себе пр...дмет для экзамена.
----------	--

Литература Борисова И.А.

11.12.25	Онлайн урок в 9.00 (ссылка в группе класса) Прочитайте главы 8 «Незванный гость», 11 «Мятежная слобода», 12 «Сирота». Выпишите 5-10 цитат, характеризующих поведение Петра Гринёва в отношении к Пугачёву. Какие качества проявляются в герое?
----------	---

Информатика Бигбаева Е.С. электронная почта: lenikaishim@mail.ru

11.12.25	Всероссийский образовательный проект https://урокцифры.рф/?/ Интернет урок IT грамотности. Дело в чате: эволюция нейросетей и цифровая безопасность. Посмотреть видео по теме урока, пройти тренажер. Именной сертификат отправить на почту
----------	--

Информатика Зубова О.Н. электронная почта: zon80@mail.ru

11.12.25	Всероссийский образовательный проект https://урокцифры.рф/?/ Интернет урок IT грамотности. Дело в чате: эволюция нейросетей и цифровая безопасность. Посмотреть видео по теме урока, пройти тренажер. Именной сертификат отправить на почту
----------	--

Музыка Гляйм Н.В. электронная почта: nadya_806@mail.ru

11.12.25	РЭШ урок 8, просмотреть и выполнить тренировочные задания. Фото отправить на электронную почту
----------	---

Химия Бушина О.Г.

11.12.25	посмотреть видеоурок по ссылке: https://yandex.ru/video/preview/4627535878736892103
----------	--