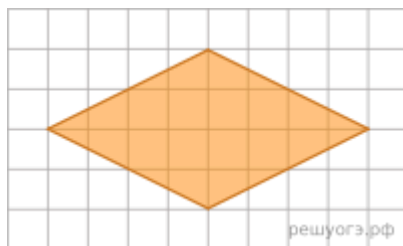
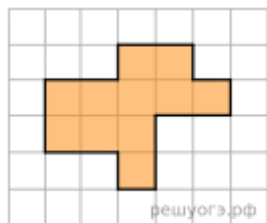


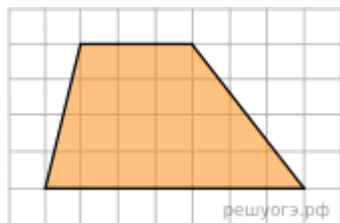
## Геометрия 8, 09.12



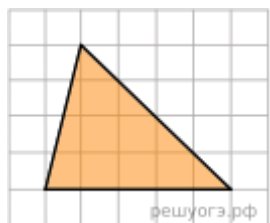
1. На клетчатой бумаге с размером клетки  $1 \times 1$  изображен ромб. Найдите площадь этого ромба.



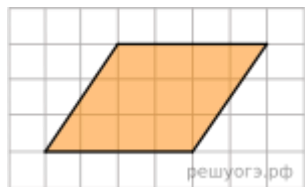
2. На клетчатой бумаге с размером клетки  $1 \times 1$  изображена фигура. Найдите ее площадь.



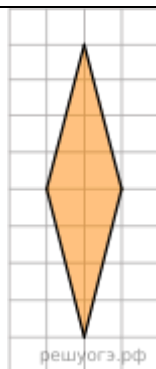
3. На клетчатой бумаге с размером клетки  $1 \times 1$  изображена трапеция. Найдите ее площадь.



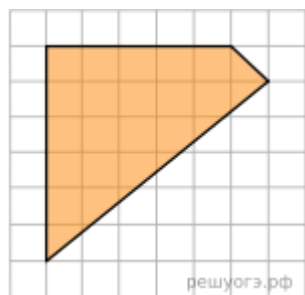
4. На клетчатой бумаге с размером клетки  $1 \times 1$  изображен треугольник. Найдите его площадь.



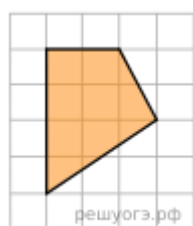
5. На клетчатой бумаге с размером клетки  $1 \times 1$  изображен параллелограмм. Найдите его площадь.



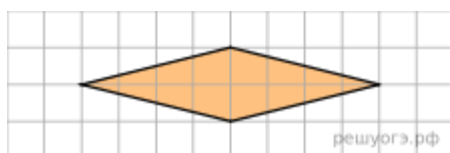
6. На клетчатой бумаге с размером клетки  $1 \times 1$  изображен ромб. Найдите площадь этого ромба.



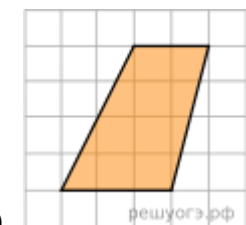
7. Площадь одной клетки равна 1. Найдите площадь фигуры, изображенной на рисунке.



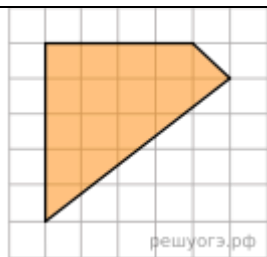
8. Площадь одной клетки равна 1. Найдите площадь закрашенной фигуры.



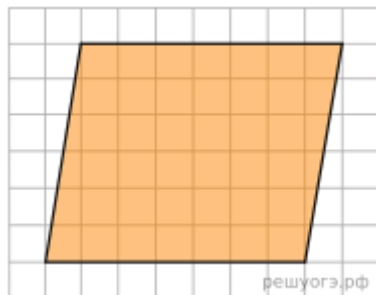
9. На клетчатой бумаге с размером клетки  $1 \times 1$  изображен ромб. Найдите площадь этого ромба.



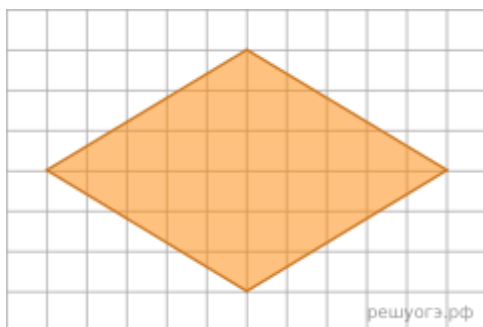
10. На клетчатой бумаге с размером клетки  $1 \text{ см} \times 1 \text{ см}$  изображена трапеция. Найдите ее площадь. Ответ дайте в квадратных сантиметрах.



11. Площадь одной клетки равна 1. Найдите площадь фигуры, изображенной на рисунке.



12. На клетчатой бумаге с размером клетки 1x1 изображен параллелограмм. Найдите его площадь.



13. На клетчатой бумаге с размером клетки 1x1 изображен ромб. Найдите площадь этого ромба.

География	Ольга Тарасенко приглашает вас на запланированную конференцию: Zoom. Тема: Конференция Zoom Ольга Тарасенко
Русский язык	<b>СМОТРИ в ГРУППЕ ссылку</b>
Информатика	Всероссийский образовательный проект <a href="https://урокцифры.рф/?/">https://урокцифры.рф/?/</a> Интернет урок ИТ грамотности. Дело в чате: эволюция нейросетей и цифровая безопасность. Посмотреть видео по теме урока, пройти тренажер. Именной сертификат отправить на почту <a href="mailto:lenikaishim@mail.ru">lenikaishim@mail.ru</a>
Иностранный язык	Карпова Г.А. Модуль 4е выполнить задания <a href="https://onlinetestpad.com/i2jy4uev4w7dy">https://onlinetestpad.com/i2jy4uev4w7dy</a> <a href="mailto:lgkarpova@mail.ru">lgkarpova@mail.ru</a> Антропова О.В. стр.59 упр.5- записать предложения полностью, выбрать верный вариант, письменно перевести. <a href="mailto:wagner_olga_was@mail.ru">wagner_olga_was@mail.ru</a>
История	П2 (история России) знать теорию параграфа, выписать даты и термины в тетрадь, зад 4-5 письменно. <a href="mailto:Patrakhina69maill.ru">Patrakhina69maill.ru</a>

Технология

Оформить чертежный лист. Выполнить чертеж плоской детали с элементами сопряжения. [sml72rus@mail.ru](mailto:sml72rus@mail.ru)

